

GEOGRAFIA

INSTRUÇÃO: Responder à questão 16 com base no quadro de informações sobre países asiáticos.

PAÍS A
- Regime de governo totalitário. - Predomínio de população rural. - Setor ocidental do seu território menos desenvolvido.
PAÍS B
- Regime de governo democrático. - Predomínio de população urbana. - Território quase que desprovido de recursos minerais.

16) Os países A e B são, respectivamente,

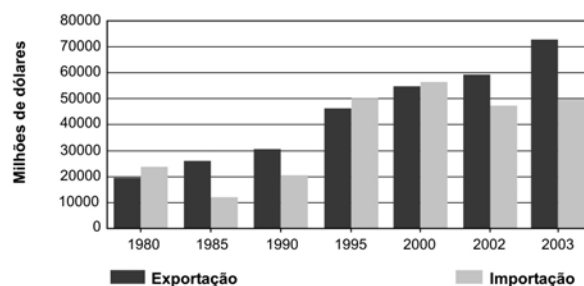
- A) Malásia e Rússia.
- B) Japão e China.
- C) Rússia e Indonésia.
- D) Quênia e Malásia.
- E) China e Japão.

17) No dia 22 de setembro de 2004, iniciou a estação da Primavera no Hemisfério Sul; portanto,

- A) ocorreu o solstício de verão, responsável pela grande noite de inverno no Pólo Norte e o grande dia polar na Antártica.
- B) o Sol incidiu, ao meio-dia solar, perpendicularmente à linha do Equador, evidenciando, a princípio, igualdade na distribuição da luminosidade nos hemisférios Norte e Sul, a partir do paralelo inicial.
- C) ocorreu ao meio-dia, hora civil, em Porto Alegre, a incidência da luz solar, perpendicularmente ao paralelo 32° S.
- D) aconteceu um solstício, momento em que o Sol, devido ao Movimento de Translação da Terra, está mais distante do nosso Planeta.
- E) nos trópicos, aconteceu a maior incidência da luz solar no ano, evidenciando as mais altas temperaturas na área intertropical.

INSTRUÇÃO: Responder à questão 18 com base no gráfico e nas afirmativas referentes ao comércio exterior brasileiro.

COMÉRCIO EXTERIOR BRASILEIRO (1980-2003)



Fonte: Associação de Comércio Exterior do Brasil. <www.aeb.org.br>. Acesso em mar. 2004

- I. As informações do gráfico evidenciam a ruptura entre duas fases do comércio externo do Brasil: a primeira relacionada à substituição de importação até 1990 e a segunda, à liberalização de importações, que inicia nesse mesmo ano e se mantém até os dias atuais.
- II. Até 1990, o Brasil passa por um período de protecionismo, taxando produtos importados.
- III. Entre 1995 e 2000, a balança comercial brasileira apresentou saldo negativo, graças à importação de produtos manufaturados, provenientes da África.
- IV. O déficit da balança comercial brasileira no período entre 1995 e 2000 deve-se ao Plano Econômico denominado de Cruzeiro Novo, que valorizou a moeda brasileira, equiparando-a ao Euro.

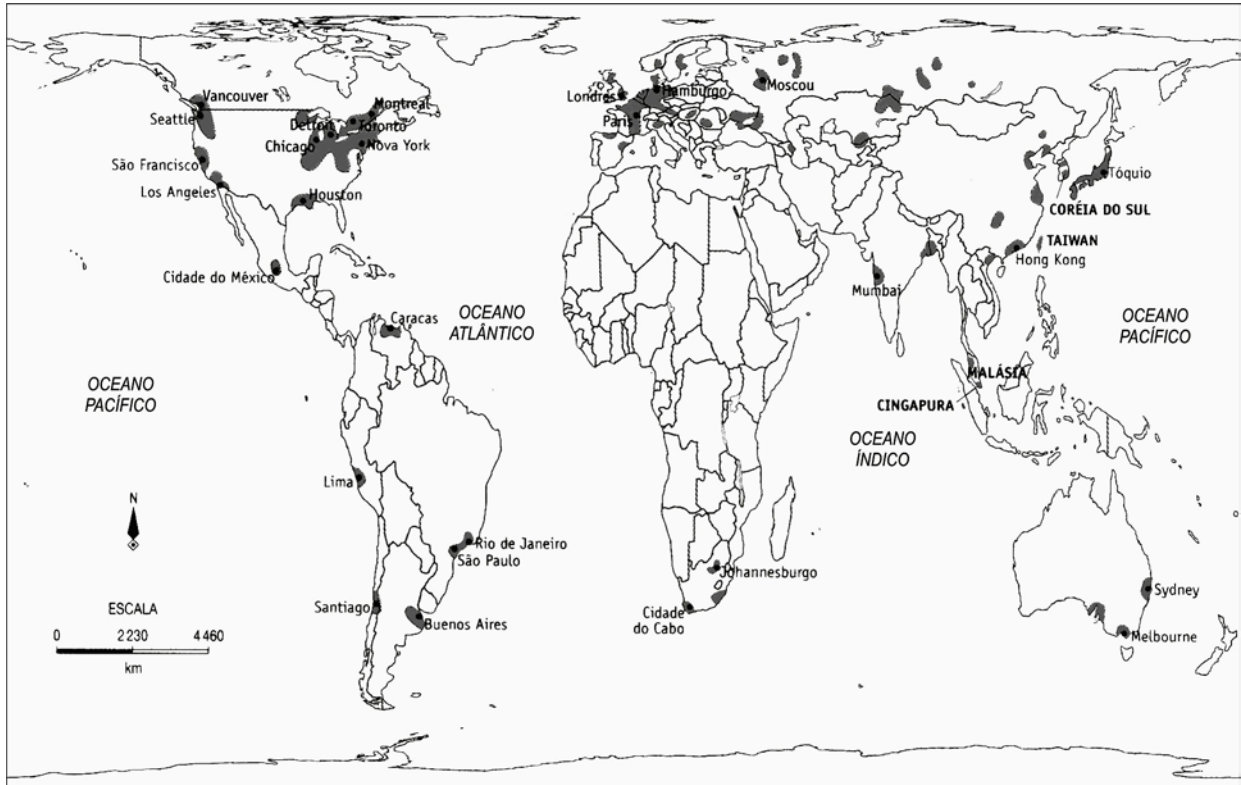
18) Pela análise do gráfico e das afirmativas, conclui-se que somente estão corretas

- A) I e II
- B) I, II e III
- C) I, III e IV
- D) II e IV
- E) III e IV

19) A região africana considerada como extremo ocidental do mundo árabe, por onde passa o Trópico de Capricórnio, é marcada pela presença do Atlas, apresentando, no litoral, um clima mediterrâneo e, no restante, grandes extensões de deserto. Esta região é conhecida como

- A) Deserto do Atacama.
- B) Patagônia Austral.
- C) Área do Magreb.
- D) Planície da Anatólia.
- E) Chifre Africano.

INSTRUÇÃO: Responder às questões 20 e 21 com base no mapa.



Fonte: Adaptado de: *Reference atlas of the world*. London, Dorling Kindersley, 2003.

20) As áreas destacadas no mapa referem-se

- A) à concentração de campos de refugiados.
- B) ao processo de desertificação.
- C) à produção de petróleo e à instalação de refinarias.
- D) à concentração industrial.
- E) aos maiores índices de mortalidade infantil.

21) A projeção cartográfica utilizada no mapa representa a técnica da

- A) projeção cônica, que preserva as distâncias entre os continentes e aumenta a área dos países periféricos.
- B) projeção plana, que preserva a forma dos territórios, tendo como objetivo ampliar a área dos países da faixa tropical.
- C) projeção azimutal, que preserva as áreas equivalentes dos países de clima temperado e tem como parâmetro ideológico o eurocentrismo.
- D) projeção cilíndrica, que preserva as áreas equivalentes dos continentes e tem como objetivo demonstrar a igualdade proporcional das áreas.
- E) projeção descontínua, que distorce a forma dos continentes e tem a finalidade de ressaltar o tamanho dos países centrais.

22) Se for considerada a população relativa e absoluta de diferentes áreas da Terra, é correto afirmar que

- A) o Rio Grande do Sul, com 6 milhões de habitantes, concentra a sua população na Região Metropolitana de Porto Alegre, sendo considerado o estado brasileiro mais populoso.
- B) o Brasil apresenta uma população de aproximadamente 180 milhões de habitantes, sendo considerado um dos países mais povoados do mundo.
- C) a Índia é o país mais povoado e populoso do mundo, sendo que a sua população está concentrada no setor norte, junto às fronteiras do Paquistão e Nepal.
- D) países como Mônaco, na Europa, e Cingapura, na Ásia, estão entre os mais povoados do mundo, devido principalmente a sua pequena área territorial.
- E) na África, a população está concentrada no Saara e junto ao delta do Rio Nilo, sendo a Argélia o país mais populoso do continente.

23) As cidades brasileiras estão organizadas em redes que, através de suas texturas comunicacionais, revelam dependências hierárquicas. Quanto à organização dessas redes, é correto afirmar que

- A) as áreas urbanas polarizadas sofrem influência direta dos centros locais, que estão no topo de uma pirâmide hierárquica.
- B) na expansão das cidades, existe a probabilidade de fusão entre cidades vizinhas, constituindo-se numa conurbação.
- C) as megacidades brasileiras têm a sua sobrevivência ligada às cidades de fronteira, pois é destas que provêm as maiores demandas pelos seus serviços.
- D) o crescimento urbano, através da natalidade, provoca na rede uma urbanização acelerada, fato que ameniza os possíveis problemas de ordem social que a rede possa vir a ter.
- E) Belo Horizonte e Rio de Janeiro, inseridas na pós-modernidade, classificam-se como centros regionais globalizados, demonstrando, através da comunicação, a cultura hegemônica mundial.

INSTRUÇÃO: Responder à questão 24 com base nas afirmativas abaixo, sobre a produção e o uso do álcool enquanto combustível, no Brasil.

- I. O Brasil desenvolveu tecnologia própria para a utilização do álcool etílico como combustível, sendo este menos poluente que a gasolina.
- II. As Regiões Sudeste e Nordeste são as maiores produtoras de cana-de-açúcar.
- III. Não há utilidade econômica para o bagaço da cana-de-açúcar, o que contribui para o valor do álcool ser maior que o da gasolina.
- IV. O Brasil não necessitaria produzir álcool combustível, pois já é auto-suficiente na produção de petróleo.

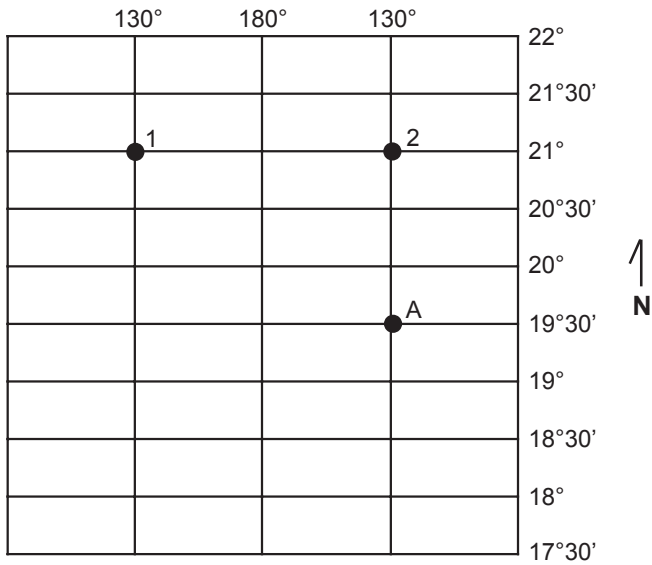
24) Com a análise das afirmativas, conclui-se que somente estão corretas

- A) I e II
- B) I, II e III
- C) I, III e IV
- D) II e IV
- E) III e IV

25) No caso da última Guerra no Iraque, em que os Estados Unidos anunciaram o final da guerra, é possível aplicar-se a frase: "Pode ser fácil ganhar a guerra, o difícil é sair dela", pois continua a matar, não só soldados, mas também civis. Esta situação acontece porque

- A) o Irã, aproveitando o enfraquecimento do Estado Iraquiano resolveu invadi-lo, buscando anexar parte do Iraque ao seu território.
- B) a Rússia, por ter concessões de exploração de petróleo no Iraque, formalizadas antes da guerra, resolveu garantir estes acordos, ocupando militarmente o setor norte do país.
- C) os Estados Unidos decidiram entregar definitivamente o controle do Iraque para a ONU, retirando todo o seu efetivo militar.
- D) há uma forte reação de parte da população iraquiana, que não aceita a presença de forças militares estrangeiras no país, facilitando a ação do terrorismo.
- E) a inexistência de um Estado Iraquiano deixa a população estrangeira à mercê de forças paramilitares.

INSTRUÇÃO: Responder às questões 26 e 27 com base na rede de coordenadas, que representa um espaço do planisfério terrestre.



26) O ponto antípoda ao ponto "A", situado na rede de coordenadas, tem como localização absoluta

- A) 19°30' da latitude Sul e 130° de longitude Oeste.
- B) 30' de latitude Sul e 50° de longitude Leste.
- C) 19°30' de latitude Norte e 130° de longitude Oeste.
- D) 30" de latitude Norte e 130° de longitude Oeste.
- E) 19°30' de latitude Sul e 50° de longitude Leste.

27) Quanto aos pontos 1 e 2, localizados na rede de coordenadas, é correto afirmar que

- A) pertencem ao mesmo fuso horário.
- B) estão situados em áreas cujas médias de temperaturas anuais são inferiores a 0° C.
- C) possuem as mesmas distâncias longitudinais ao Ante-Meridiano de Greenwich.
- D) a distância longitudinal, entre os dois pontos, é superior a 360°.
- E) estão situados, provavelmente, sobre o Continente Europeu.

INSTRUÇÃO: Responder à questão 28 com base nas afirmativas, referentes ao processo de industrialização do Brasil no evento da globalização, na década de 90 do século XX.

- I. Países emergentes como o Brasil desenvolvem nesta década a indústria nacional, principalmente a de base e a de bens de consumo, com grande participação dos países vizinhos.
- II. O capital transnacional passa a controlar a industrialização, e o comportamento neoliberal define o mercado e a produção.
- III. O processo de privatização iniciado no governo Collor é retomado pelo governo Fernando Henrique Cardoso, dando uma nova dimensão à indústria nacional.
- IV. Comparativamente, o Brasil desenvolveu-se mais na década anterior do que nesta, pois, nos anos 80, as taxas de produtos industrializados e os empregos foram reduzidos.

28) Com a análise das afirmações, conclui-se que somente estão corretas

- A) I e II
- B) I, II, III e IV
- C) I, III e IV
- D) II e III
- E) III e IV

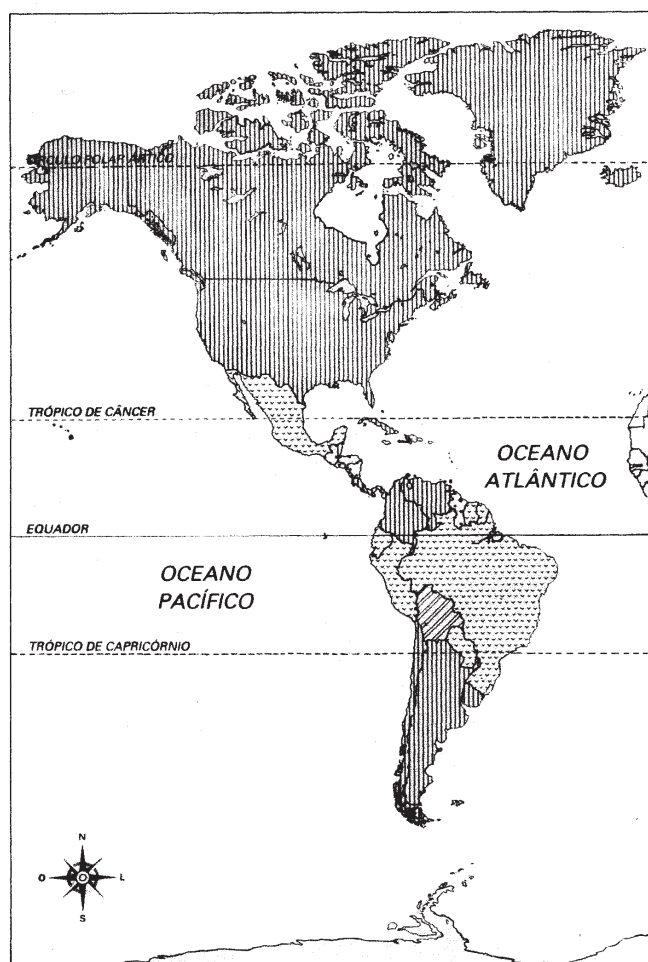
INSTRUÇÃO: Responder à questão 29, numerando a Coluna B, que apresenta as formações de relevo, de acordo com a Coluna A, que apresenta agentes erosivos.

Coluna A	Coluna B
1. erosão eólica	() falésias
2. erosão fluvial	() morainas
3. erosão marinha	() voçorocas
4. erosão glacial	() dunas
5. erosão pluvial	() meandros

29) A numeração correta da Coluna B, de cima para baixo, é

- A) 1 – 5 – 2 – 3 – 4
- B) 4 – 2 – 1 – 5 – 3
- C) 1 – 4 – 3 – 2 – 5
- D) 3 – 4 – 5 – 1 – 2
- E) 5 – 3 – 4 – 1 – 2

INSTRUÇÃO: Responder à questão 30 com base no mapa do Continente Americano, que representa a expectativa de vida dos países, e nas afirmativas.



- I. A diferenciação na legenda demonstra que os Estados Unidos e o Canadá destacam-se pela maior expectativa de vida, que chega a ser mais que 74 anos.
- II. A menor expectativa de vida está representada na legenda da Bolívia, sendo que a população espera viver entre 55 e 64 anos, em função das condições econômicas do país.
- III. Países como o Brasil, o Paraguai e o México estão incluídos no grupo que apresenta a segunda maior expectativa de vida do continente.
- IV. A maioria dos países que formam a América Anglo-Saxônica apresenta uma expectativa de vida inferior à brasileira.

30) Com base no mapa e nas afirmações, conclui-se que somente estão corretas

- A) I e II
- B) I, II e III
- C) I, III e IV
- D) II e IV
- E) III e IV