

## GEOGRAFIA

16) Se duas cidades, A e B, estiverem sobre a Linha do Equador, nas longitudes 15° Oeste e 15° Leste, elas terão, em relação a outras duas cidades, C e D, localizadas nas mesmas longitudes, porém sobre o Círculo Polar Ártico,

- A) a mesma distância em metros, pois as latitudes são iguais.
- B) a distância, em metros, maior, pois os meridianos convergem para os pólos.
- C) a distância, em graus, diferente, pois nos pólos não há paralelos.
- D) a distância, em metros, menor, pois a Terra é achatada ao longo da linha do Equador.
- E) a distância, em graus, diferente, pois as longitudes são as mesmas.

17) Duas cidades, A e B, possuem uma diferença horária de uma hora, entre elas. Considerando que pela cidade A passa o Meridiano de Greenwich, é correto supor que as cidades A e B são, respectivamente,

- A) Los Angeles e Nova York.
- B) Londres e Paris.
- C) Roma e Istambul.
- D) Dakar e Nairobi.
- E) San Diego e Tegucigalpa.

18) Os desertos, paisagens distribuídas em todo o globo, ocorrem por razões que diferem conforme o local em que se encontram. O Deserto do Saara, situado na África, e o Deserto do Colorado, situado nos Estados Unidos da América do Norte, têm como causa principal, respectivamente,

- A) altas altitudes e continentalidade.
- B) proximidade com o Oceano Pacífico e baixas pressões.
- C) correntes marinhas frias e elevadas altitudes.
- D) alta pressão atmosférica e encostas de sotavento.
- E) baixas latitudes e correntes marinhas frias.

19) A exploração da ametista, no noroeste do Rio Grande do Sul, está diretamente relacionada à estrutura geológica do Estado. O que define a existências dessas pedras

- A) é a presença de rochas resultantes de um deserto chamado Botucatu.
- B) é a existência de uma rede hidrográfica complexa.
- C) foram os derrames basálticos com resfriamento rápido, formando geodos.
- D) foi o soterramento dos manguezais pelos derrames vulcânicos.
- E) é a presença de granito com excesso de quartzo e mica.

20) O Centro-Sul do Brasil apresenta diversidades econômicas marcantes. Uma relação correta entre região e economia é

- A) Vale do Rio Itajaí – indústria petroquímica.
- B) Zona da Mata Mineira – criação de gado leiteiro.
- C) Campanha Gaúcha – produção algodoeira.
- D) Litoral Fluminense – criação de gado de corte.
- E) Oeste Paulista – extração de carvão mineral.

21) A *flexibilidade empresarial*, característica de empresas globalizadas, favorece, na prática,

- A) a especialização acadêmica voltada à excelência na produção em série.
- B) a polivalência do indivíduo com mobilidade no âmbito do trabalho.
- C) o desaparecimento de médias e pequenas empresas, com concentração da produção local.
- D) o enfraquecimento de serviços voltados à terceirização, com a concentração da produção em cartéis.
- E) a retração do trabalho autônomo, aumentando a concentração do operariado sob o domínio da técnica.

22) Nos últimos anos, ocorreram três edições do Fórum Social Mundial, em Porto Alegre. O evento surgiu como uma reação ao encontro anual de Davos, na Suíça, o qual prioriza a participação dos países mais ricos do Planeta. O IV Fórum Social Mundial será realizado na Ásia, mais precisamente

- A) na Índia.
- B) na China.
- C) no Japão.
- D) na Espanha.
- E) em Moçambique.

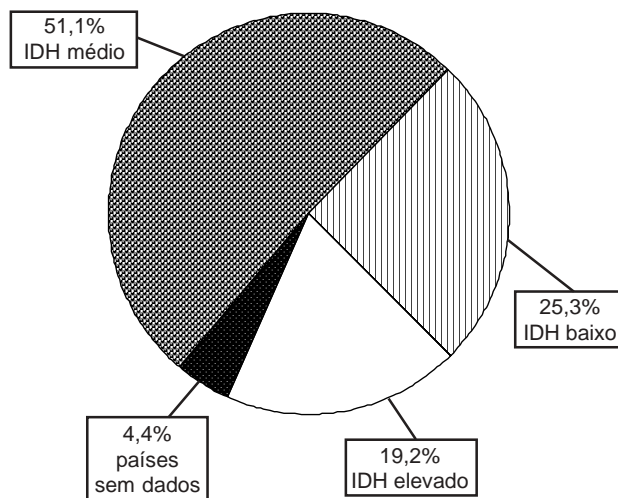
**INSTRUÇÃO:** Responder à questão 23 com base no desenho referente a um determinado lugar no Brasil.



**23)** A ilustração representa uma ruptura do sistema agrícola brasileiro, ao mesmo tempo em que, na organização urbana, modificam-se as relações cotidianas. A afirmativa que caracteriza corretamente essa situação é:

- A) As propriedades que produzem alimentos tendem a crescer, “expulsando” os trabalhadores rurais, os quais, sem tecnologia, buscam empregos nas transnacionais, fixando residência junto a essas empresas.
- B) As propriedades próximas aos centros urbanos foram as primeiras a serem abandonadas, por terem sido desvalorizadas pela ampliação da mancha urbana, que provocou uma significativa migração.
- C) A criação extensiva de gado foi a atividade que mais envolveu o homem rural, evitando a saída para os grandes centros urbanos, em função da ocupação intensiva da mão-de-obra.
- D) As cidades, a partir da mecanização do campo, concentraram um grande número de pessoas no setor informal de trabalho, resultado do êxodo rural.
- E) Com o êxodo rural, a favelização aumenta nas grandes cidades, o centro urbano se amplia, o setor secundário da economia incha e os sindicatos se reforçam.

**INSTRUÇÃO:** Responder à questão 24 com base no gráfico que trata da concentração de países por faixa do Índice de Desenvolvimento Humano (IDH).



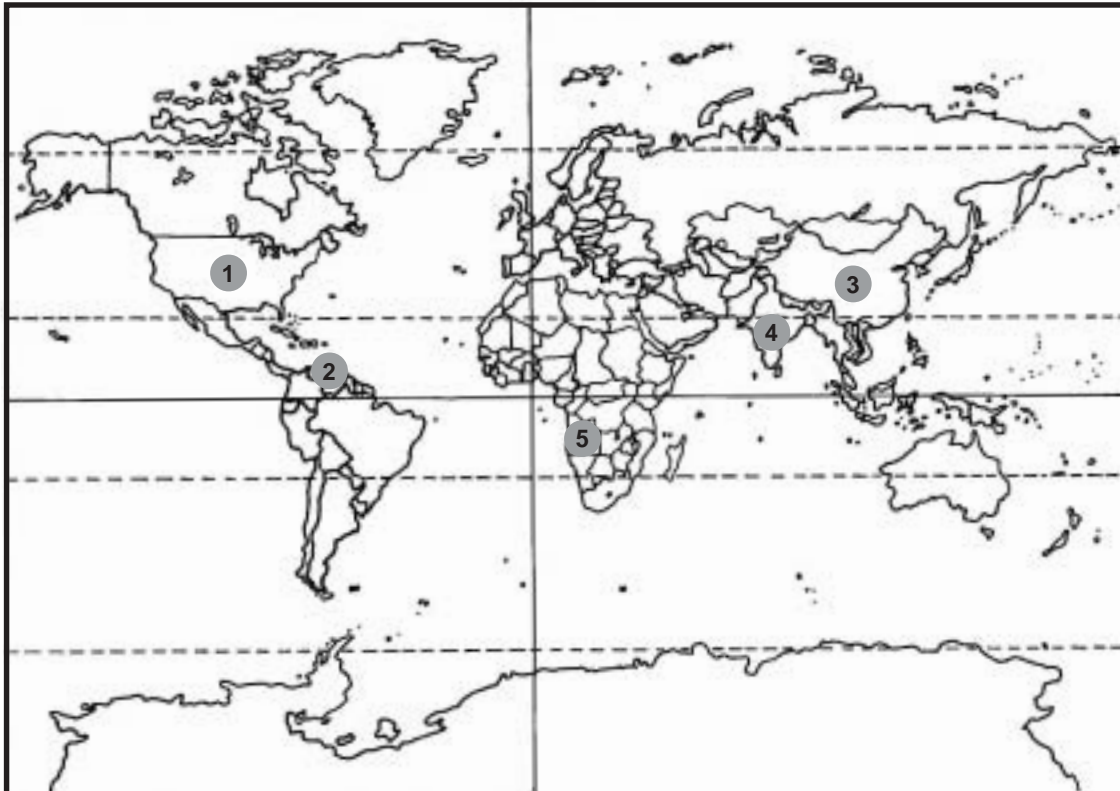
**24)** O IDH mede o desenvolvimento social de um país considerando três fatores: a expectativa de vida, a renda e a educação. Dentre os grupos de países abaixo, qual seria corretamente considerado Médio, segundo os parâmetros do IDH?

- A) Austrália – Canadá – México – Brasil
- B) Paraguai – Austrália – Argentina – Eritreia
- C) Brasil – México – Arábia Saudita – China
- D) Chile – Arábia Saudita – Brasil – Noruega
- E) China – Egito – Haiti – Nova Zelândia

**25)** No Brasil, têm-se identificado focos de tensões em áreas indígenas, causadas pelo extrativismo mineral e vegetal, bem como pela invasão das reservas por posseiros para transformá-las em áreas agrícolas. O complexo regional e o Estado que centralizam o maior número de conflitos são, respectivamente,

- A) Nordeste e Rio Grande do Norte.
- B) Centro-Sul e Rio Grande do Sul.
- C) Amazônia e Pará.
- D) Nordeste e Piauí.
- E) Amazônia e Acre.

**INSTRUÇÃO:** Responder à questão 26 com base no mapa.



**26)** Os países indicados por números no mapa apresentam particularidades econômicas. A relação correta é

- A) 1 – Estados Unidos – extrativismo vegetal.
- B) 2 – Venezuela – extração de petróleo.
- C) 3 – China – agricultura mediterrânea.
- D) 4 – Paquistão – agricultura do tipo *plantation*.
- E) 5 – África do Sul – indústria automobilística.

**INSTRUÇÃO:** Responder à questão 27 com base nas afirmativas abaixo.

A sociedade atual, vista por alguns pensadores como pós-moderna, sofre diferentes rupturas, mudando paradigmas econômicos, sociais e políticos e caracterizando-se

- I. pela organização da comunicação em redes, dinamizando-se vendas globais, originárias predominantemente de países ricos.
- II. pelo fluxo de capital estrangeiro, batizado como “capital de risco”, em países subdesenvolvidos, os quais não conseguem, muitas vezes, controlar os juros do seu sistema financeiro.
- III. pelo fechamento decisivo de áreas de fronteira por parte dos países ricos, impedindo-se o fluxo de mão-de-obra qualificada vinda dos países pobres.
- IV. pela importância do domínio da informação nas competitivas relações comerciais, evitando-se o acúmulo de estoque no mercado e priorizando as vendas imediatas.

**27)** Pela análise das afirmativas, conclui-se que somente são corretas

- A) I e II.
- B) I, II e IV.
- C) I, III e IV.
- D) II e III.
- E) III e IV.

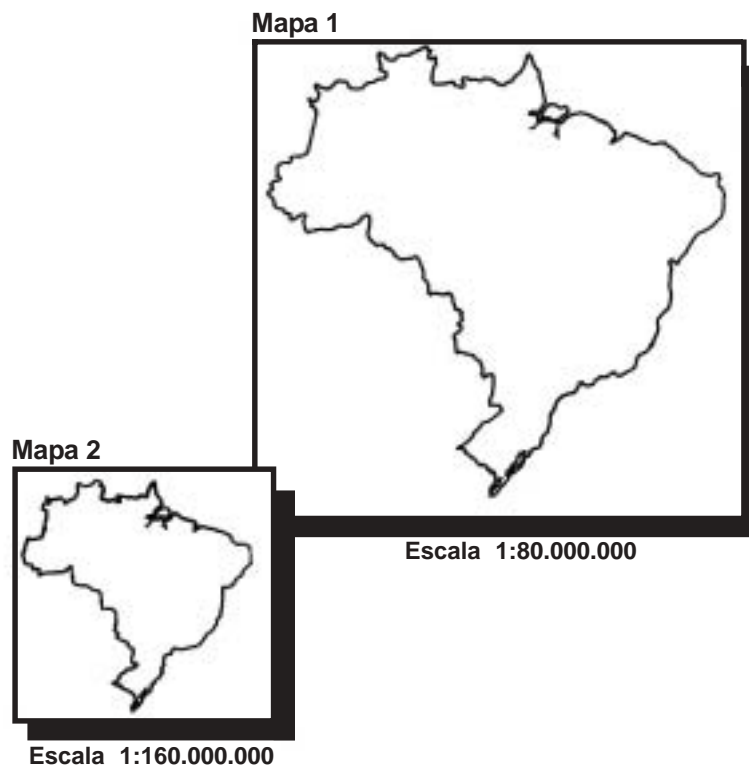
28) Sobrepondo-se um planisfério que apresente a divisão política sobre um outro planisfério que mostre as vias de transportes e as atividades econômicas, tem-se como resultado

- A) o predomínio das ferrovias nos países pobres, graças à exportação de minérios.
- B) um maior fluxo nas hidrovias do que nas ferrovias, no Japão, pois houve a construção de canais artificiais ligando importantes rios.
- C) o predomínio da malha ferroviária em países ricos em relação aos países pobres.
- D) o equilíbrio na distribuição das aerovias, tanto no Hemisfério Norte como no Hemisfério Sul.
- E) o predomínio das rodovias expressas nos países pobres, devido à cobrança de pedágios.

29) Analisando a área do litoral gaúcho, de norte a sul, é correto afirmar que

- A) apresenta uma economia semelhante à do litoral nordestino, caracterizada pelo desenvolvimento do turismo e o cultivo de cana-de-açúcar.
- B) nela se encontra a Planície Costeira, de formação geológica recente, com a presença de restingas ao sul e falésias no extremo norte.
- C) está encoberta, em grande parte, por Mata Atlântica, idêntica à existente no Nordeste, graças aos verões secos e aos invernos chuvosos.
- D) observa-se um aumento da concentração humana diretamente proporcional ao aumento da latitude.
- E) cultiva-se o soja no inverno, graças à maritimidade, que favorece temperaturas mais altas do que a registrada nas áreas de planalto.

**INSTRUÇÃO: Responder à questão 30 com base nos mapas.**



30) O mapa mais adequado para apresentar as informações referentes à atividade industrial no Brasil é

- A) o mapa 1, pois está representado numa escala menor que o 2, o que torna as informações mais claras.
- B) o mapa 2, pois um centímetro na representação compreende a um quilômetro do espaço real.
- C) o mapa 1, pois está representado numa escala maior que o 2, o que favorece uma maior quantidade de informações representadas.
- D) o mapa 2, por ter uma escala maior do que o 1, permitindo, assim, mais informações.
- E) o mapa 2, por ter uma escala menor do que o 1, facilitando a leitura das informações.