

## GEOGRAFIA

**INSTRUÇÃO:** Responder à questão 16 com base no mapa abaixo e no texto referente aos países sul-americanos.



Os países indicados no mapa apresentam características específicas que, quando comparadas às de outros países, remontam às diferenças que a América Latina concentra em sua trajetória sócio-econômica.

Quanto aos países indicados no mapa pelos números 1, 2 e 3, afirma-se:

- I. O país 1 é a República da Venezuela, tendo como importante atividade econômica a produção de petróleo.
- II. O país 2 pertence ao Mercosul, apresentando uma balança comercial diversa dos países 1 e 3, pois as exportações superam as importações.
- III. O país 3 apresenta a maior dívida externa em relação aos países 1 e 2, possuindo também a maior população absoluta.
- IV. Os países 1 e 2 falam a mesma língua e possuem unidades geológicas semelhantes, mas são banhados por diferentes oceanos.

**16)** Pela análise das afirmativas, conclui-se que estão corretas as da alternativa

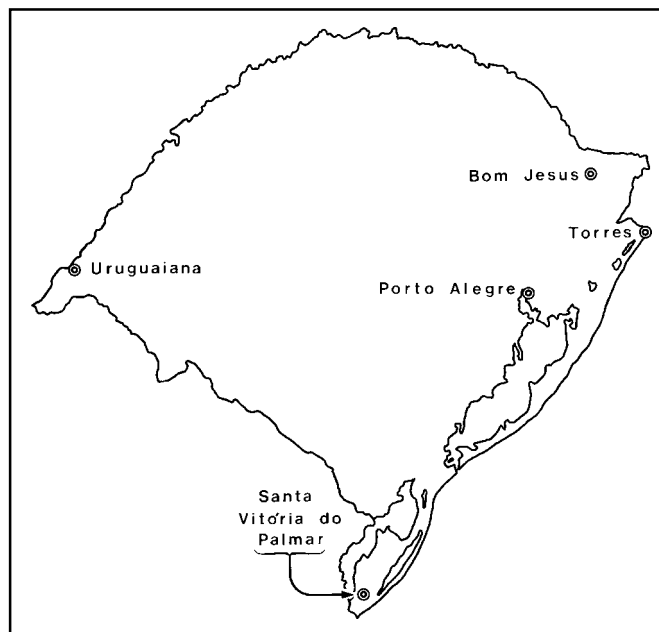
- A) I e II
- B) I, II, III e IV
- C) I e III
- D) II e IV
- E) III e IV

**17)** Uma das faces da globalização que o mundo vivencia reflete forte tendência para a regionalização. Acelera-se a integração de países, buscando-se a retirada de barreiras e impulsionando-se uniões aduaneiras ou zonas de livre comércio. Neste contexto, a criação de um bloco americano teria como objetivo a redução progressiva de tarifas, com a facilitação de fluxos de bens e serviços. Infelizmente, ainda no início deste século, um país latino-americano tem dificuldades políticas para fazer parte do referido bloco.

O bloco e o país a que o texto acima se refere encontram-se na alternativa

- A) Mercosul – República da Colômbia
- B) ALCA – República de Cuba
- C) NAFTA – República da Costa Rica
- D) ALALC – República Oriental do Uruguai
- E) APEC – República do Suriname

**INSTRUÇÃO:** Responder à questão 18 com base no mapa do Rio Grande do Sul.



**18)** Pela análise da localização das cidades assinaladas no mapa, conclui-se que a relação correta entre a característica climática e o fator predominante de influência está na alternativa

- A) Uruguaiana – pequena amplitude térmica – continentalidade.
- B) Bom Jesus – invernos brandos – altitude.
- C) Torres – invernos amenos – maritimidade.
- D) Santa Vitória do Palmar – invernos rigorosos – altitude.
- E) Porto Alegre – pequena amplitude térmica – correntes marinhas.

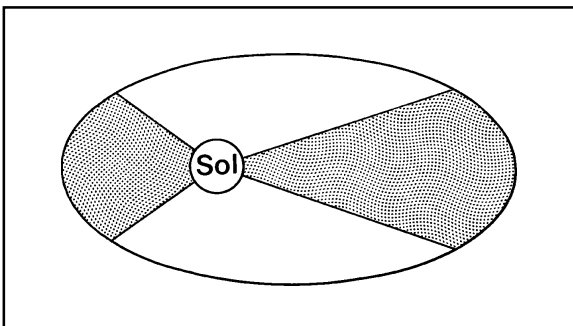
**INSTRUÇÃO: Responder à questão 19 com base no quadro abaixo, referente a áreas geográficas gaúchas, relacionando-as à economia, localização e centro comercial.**

Áreas	Fator Econômico	Localização	Centro Comercial
I. Alto Uruguai	Industrialização	Norte	Iraí
II. Campanha	Criação de gado	Sudoeste	Bagé
III. Depressão Central	Carvão mineral	Noroeste	Santa Maria
IV. Litoral Norte	Turismo sazonal	Leste	Tramandaí
V. Campos de Cima da Serra	Sojicultura e triticultura	Nordeste	Ijuí

**19)** Pela análise do quadro, conclui-se que a relação correta entre os dados está na alternativa

- A) I, II e III
- B) I, II e V
- C) I, III e IV
- D) II e IV
- E) IV e V

**INSTRUÇÃO: Responder à questão 20 com base na figura e afirmativas a seguir.**



Segundo uma das leis de Kepler, os planetas descrevem órbitas elípticas em torno do Sol. Com base nessa lei, é correto afirmar que

- I. o Sol não está no centro do Sistema Solar.
- II. a Terra tem seus períodos de Afélio e de Periélio em função de sua órbita ter a forma de elipse.
- III. a velocidade dos planetas em suas órbitas é variada, acelerando-se à medida que estes se aproximam do Sol.
- IV. em função das diferenças de distância entre o Periélio e o Afélio é que existem as estações do ano na Terra.

**20)** Pela análise feita, conclui-se que estão corretas as afirmativas

- A) I, II e III
- B) I e III
- C) I e IV
- D) II, III e IV
- E) II e IV

**INSTRUÇÃO: Responder à questão 21 com base nas afirmativas abaixo, sobre disputas mundiais.**

Nas últimas décadas, mesmo com a multipolarização, muitos conflitos continuam ou surgem no Planeta. Dentre esses movimentos, temos:

- I. Ruanda – conflitos étnicos entre os hutus e os tutsis.
- II. Índia – movimento separatista na Caxemira, com o apoio do Paquistão.
- III. Irlanda – disputas políticas entre católicos e budistas.
- IV. Espanha – atentados liderados pelo movimento separatista basco.
- V. China – disputas territoriais entre chineses e afegãos na fronteira com o Tibet.

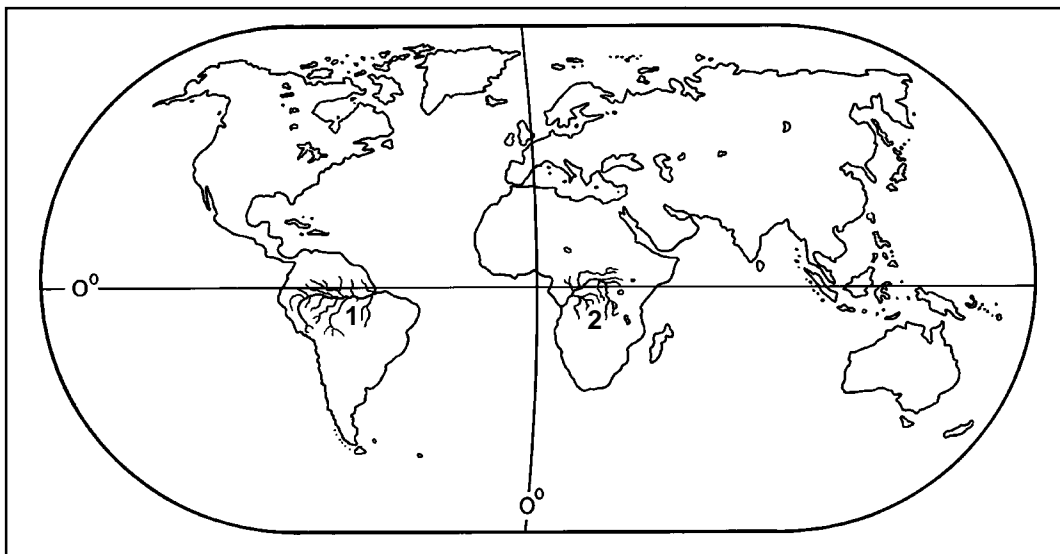
**21)** Pela análise das afirmativas, conclui-se que estão corretas as da alternativa

- A) I e II
- B) I, II e IV
- C) I e IV
- D) III, IV e V
- E) III e V

**22)** Considerando que ao unirmos todos os pontos de uma Rosa dos Ventos teremos um círculo e que o Norte representa  $0^\circ$  (zero graus), quanto vale, em graus, a distância do ponto Sul até o ponto Sudoeste?

- A)  $45^\circ$
- B)  $67^\circ 50'$
- C)  $90^\circ$
- D)  $135^\circ$
- E)  $315^\circ 50'$

**INSTRUÇÃO:** Responder à questão 23 com base no mapa onde estão representadas, pelos números 1 e 2, duas grandes bacias hidrográficas, e nas afirmativas.



- I. A bacia hidrográfica 1 estende-se por uma área com elevada pluviosidade e baixa amplitude térmica; já a bacia hidrográfica 2 ocupa áreas semi-áridas e áridas pertencentes ao prolongamento do Saara.
- II. Nas duas bacias hidrográficas, o clima predominante é o Equatorial, no qual a intensa incidência solar provoca elevada evapotranspiração.
- III. Em ambas, o rio principal nasce em planaltos sedimentares e desloca-se para o Oceano Atlântico, sendo que os seus cursos se situam nos mesmos hemisférios da Terra.
- IV. O rio principal da bacia 1 é o Rio Amazonas, e o da bacia 2 é o Rio Congo.

**23)** Pela análise das afirmativas, conclui-se que estão corretas as da alternativa

- A) I e III
- B) I e IV
- C) II e III
- D) II, III e IV
- E) II e IV

**24)** O crescimento industrial há muito tempo deixou de significar geração de empregos no Brasil. Essa realidade deve-se a muitos fatores que caracterizam a sociedade atual.

A alternativa que apresenta um desses fatores é:

- A) A força de trabalho está coerente com o novo paradigma tecnológico exigido, porém é excedente.
- B) Os trabalhadores estão pouco preparados para tarefas específicas, sendo que a indústria necessita de pessoas ágeis, que evitem mudanças freqüentes nas funções fabris.
- C) A indústria tardia se automatizou lentamente, não conseguindo absorver o trabalhador rural, vítima da desorganização agrária.
- D) A exigência de mão-de-obra criativa, técnica, organizada, com grande capacidade de aprendizado, não condiz com a realidade do sistema educacional brasileiro.
- E) A indústria de bens de consumo não-duráveis exige mão-de-obra altamente qualificada, o que encarece os preços finais dos produtos.

**25)** No início deste século, a produção de energia elétrica no Brasil não está acompanhando o aumento da demanda. Há necessidade de racionamento de consumo, o que representa um empecilho às metas de crescimento econômico planejadas pelo atual governo. Para atingir as metas previstas para o ano 2001, é necessário

- A) racionamento do uso doméstico, já que 60% do consumo total no Brasil é residencial.
- B) troca de lâmpadas incandescentes por fluorescentes em estabelecimentos comerciais, pois 50% do consumo no país está relacionado a esse setor.
- C) rodízio de racionamento nos três estados formadores da Região Sul, pois eles apresentam a maior demanda de consumo per capita.
- D) construção de novas hidroelétricas, semelhantes a Itaipu.
- E) incentivos à utilização de outras fontes de energia, como óleo diesel, carvão mineral, gás metano e energia solar.

**INSTRUÇÃO: Responder à questão 26 com base no texto e nas afirmativas.**

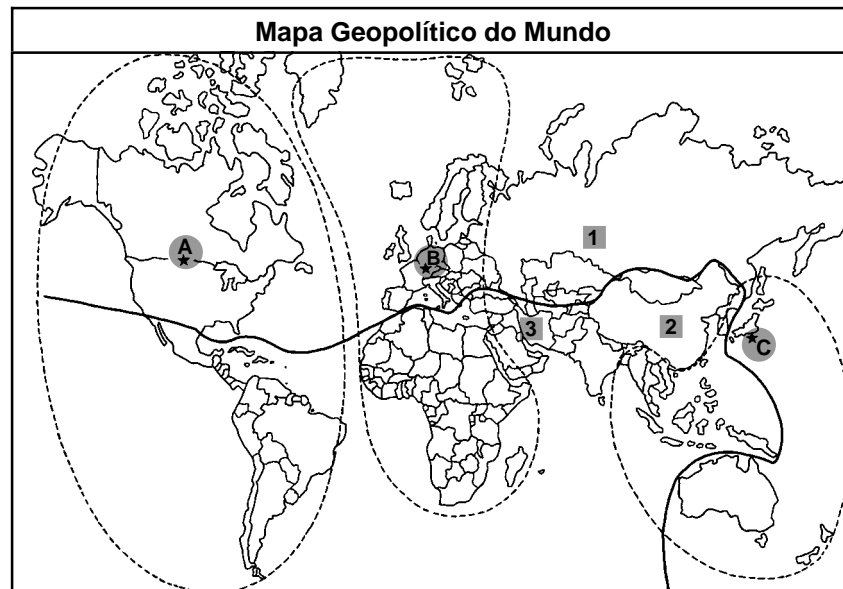
O último censo realizado no Brasil descreveu um perfil da estrutura populacional, relacionando-a à organização econômica e permitindo o entendimento das diferentes produções espaciais. Para interpretar as informações que o censo de um país pode apresentar, faz-se necessário compreender conceitos de Geografia da População, como os que integram as afirmativas abaixo.

- I. Quanto maior o crescimento vegetativo, mais desenvolvido é o país.
- II. A média de idade de um país não tem relação direta com o seu contexto sócioeconômico.
- III. Um país povoado será necessariamente populoso, independentemente de sua área.
- IV. A população relativa nem sempre condiz com a realidade da distribuição populacional de um país.
- V. As migrações não fazem parte do crescimento vegetativo de um país.

**26)** Pela leitura do texto e análise dos conceitos da Geografia da População apresentados nas afirmativas, conclui-se que estão corretas as da alternativa

- A) I e II
- B) I, II e III
- C) III e IV
- D) III, IV e V
- E) IV e V

**INSTRUÇÃO: Responder à questão 27 com base no Mapa Geopolítico do Mundo.**

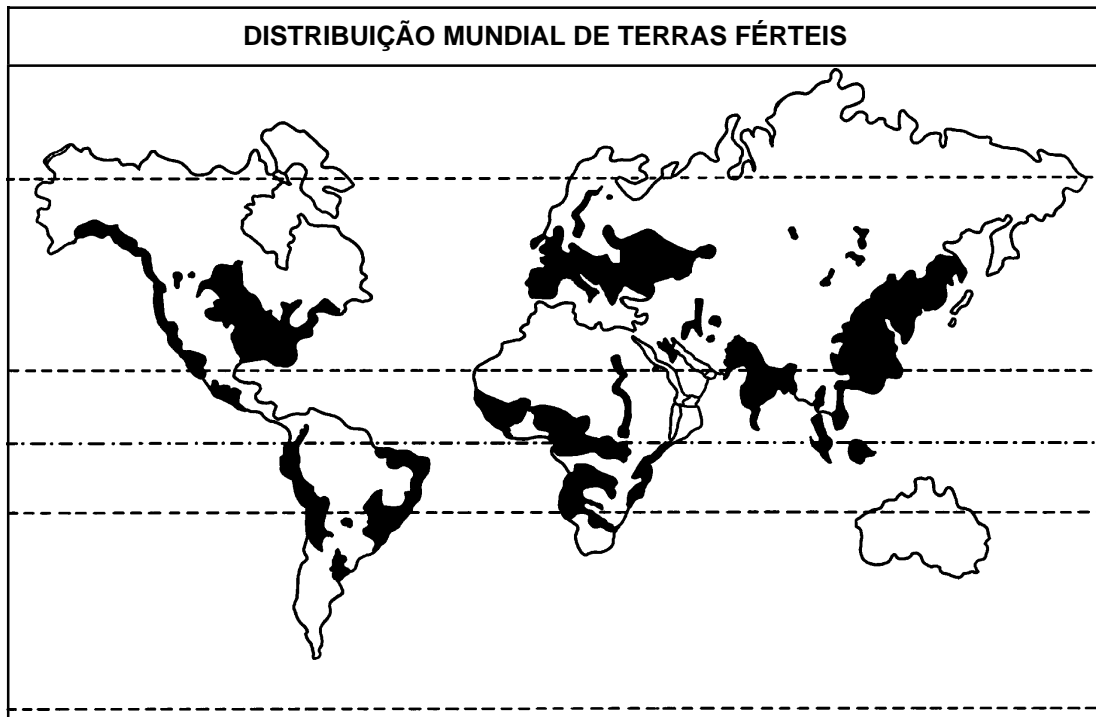


- I. Os três principais pólos ou centros da economia mundial estão assinalados no mapa pelas letras A, B e C.
- II. O traço contínuo que divide o mundo em dois grandes espaços é uma linha astronômica e separa os países economicamente emergentes dos países industrializados.
- III. O número 2 representa um país que sofreu nas últimas duas décadas grandes modificações estruturais na sua economia, passando esta a ser chamada de "socialismo de mercado".
- IV. O número 1 representa uma periferia do Japão, que auxilia a conferir a este país, no início deste século, o título de potência secundária.

**27)** Pela análise das afirmativas, conclui-se que estão corretas as da alternativa

- A) I e II
- B) I, II e III
- C) I e III
- D) II e IV
- E) III e IV

**INSTRUÇÃO:** Responder à questão 28 com base no mapa, sobre a distribuição de terras férteis no mundo.



**28)** Sobre a distribuição de terras férteis no mundo, é correto afirmar que

- A) os países pobres não se industrializaram pois quem possui a maior proporção de terras férteis são os países considerados ricos.
- B) na Zona Temperada Sul de iluminação da Terra, não existem terras férteis.
- C) a ausência de terras férteis na Ásia se dá em função da existência de desertos e geleiras.
- D) a existência de terras férteis no norte da África justifica o longo processo colonial que sofreu o Egito.
- E) não há uma correlação direta entre a existência de terras férteis e o nível de desenvolvimento dos países.

**29)** A divisão do Brasil em três grandes complexos regionais reflete as diferentes formas de ocupação do espaço pela ação humana ao longo da história brasileira. Em relação a tais espaços, é correto afirmar que

- A) a Amazônia, embora seja o espaço menos povoado, neste início de século, é o que mais expulsa migrantes em direção ao Centro-Sul.
- B) o Centro-Sul é a região mais industrializada e urbanizada, embora a maior parte da população economicamente ativa se encontre no setor primário da economia.
- C) o Nordeste, caracterizado como a região mais rica do país durante três séculos, foi considerada, no século passado, a maior fornecedora de migrantes para o Centro-Sul, devido à pouca perspectiva de oportunidades de trabalho.
- D) mais de 50% da população brasileira se concentra no Centro-Sul, sendo o sul da Bahia a área que apresenta os maiores vazios demográficos da região.
- E) o Centro-Sul e a Amazônia dividem entre si o Estado do Maranhão, sendo que a área ocupada pela Mata de Cocais pertence ao Centro-Sul.

**30)** Um turista, visitando uma cidade a 30° S e 51° W, decide se expor ao Sol ao meio dia, hora legal, no dia de Equinócio de Primavera. A que hora solar, aproximadamente, ele está exposto?

- A) 11h14min
- B) 12h36min
- C) 12h
- D) 11h36min
- E) 12h14min