

## GEOGRAFIA

**INSTRUÇÃO: Responder à questão 16 com base nas informações abaixo.**

A reorganização do mundo no Pós-Guerra Fria retrata modificações profundas na sociedade de cada país e no cotidiano das pessoas. Destacam-se, nesse contexto, os seguintes exemplos:

- I. Na África – o isolamento de aliados socialistas como Angola, Moçambique, Guiné Bissau e Cabo Verde, provocado pelo enfraquecimento do Pacto de Varsóvia.
- II. Na América – o fortalecimento do capitalismo industrial, com as transnacionais dominando a economia mundial e incentivando privatizações em países como o Brasil.
- III. Na Europa – o término de ditaduras de partido único no chamado Leste Europeu.
- IV. Na Ásia – a liberação econômica de países socialistas, que objetivou o resgate das heranças sociais.

**16)** Pela análise das afirmativas, conclui-se que estão corretas as da alternativa

- A) I, II e III
- B) I e III
- C) II, III e IV
- D) II e IV
- E) III e IV

**INSTRUÇÃO: Responder à questão 17 com base no fenômeno das “ondas” neoliberais que aportaram no Brasil com maior intensidade em 1989, causando modificações políticas, sociais e econômicas.**

Apontam-se como fatos relacionados a esta situação:

- I. As eleições elevam Fernando Collor de Mello, que defendia a “entrada do Brasil no Primeiro Mundo”, à presidência da república em 1989.
- II. A diminuição da inflação efetiva-se através do encaucamento do dinheiro, restringindo a circulação e diminuindo investimentos em verbas sociais.
- III. A redução do poder de compra provoca o desemprego e o aumento da “economia informal”.
- IV. Investidores estrangeiros afluem ao país, atraídos por uma economia estável e uma boa infra-estrutura.

**17)** Pela análise das afirmativas, conclui-se que estão corretas as da alternativa

- A) I e II
- B) I, II e III
- C) I, III e IV
- D) I e IV
- E) II, III e IV

**INSTRUÇÃO: Responder à questão 18 com base no texto e quadro abaixo.**

Conforme dados da ONU, aproximadamente 3 bilhões de pessoas sobrevivem com menos de US\$ 2 por dia. No quadro abaixo, aparecem dados relativos à participação de conjuntos de países no PIB Mundial.

Espaços Geográficos	População (em milhões) - 1998	Parte do PIB mundial em %
I	392	22,8
II	500	7,1
III	763	3,9
IV	728	33,6

**18)** Os espaços geográficos correspondentes a I, II, III e IV são, respectivamente,

- A) Oceania – África – América Latina – Europa.
- B) América Latina – América do Norte – África – Oceania.
- C) América do Norte – América Latina – África – Europa.
- D) Europa – Ásia – Oceania – América Latina.
- E) Oceania – Europa – África – Ásia.

**19)** O Rio Grande do Sul apresenta realidades bem distintas, que caracterizam organizações sócioeconômicas próprias. A afirmativa que **não** relaciona adequadamente a área com suas características é:

- A) O norte do Estado apresenta maior população em relação à porção sul, sendo que esta concentra menos riqueza.
- B) A Região Metropolitana produz quase a metade da riqueza sul-rio-grandense.
- C) O alto e médio vale do Rio Uruguai faz parte da zona colonial antiga, hoje caracterizada por grandes propriedades, latifúndios repulsores de pequenos produtores rurais.
- D) A Campanha é uma área bem definida, com grandes propriedades, as fazendas ou estâncias, áreas produtoras de arroz e criação de gado.
- E) O Litoral, com seus solos arenosos que dificultam a agricultura, e a falta de uma base econômica sólida, torna-se a área menos povoada do Estado.

**INSTRUÇÃO: Responder à questão 20 com base na situação descrita abaixo e nas afirmativas.**

O brasileiro iniciou o ano 2000 convivendo com manchetes, veiculadas nos meios de comunicação, relativas ao aumento do preço do petróleo. Tal situação pode causar um desequilíbrio na balança comercial, ameaçando a volta da inflação. Relacionando esse momento com situações já vivenciadas pelo Brasil, afirma-se que:

- I. O Brasil, em 2000, produziu mais petróleo que em 1973, ano da primeira crise provocada pelo aumento do preço do petróleo.
- II. O consumo interno do petróleo na produção industrial está diminuindo proporcionalmente, desde o segundo choque mundial, ocorrido em 1979, pois o governo vem subsidiando as indústrias para que haja substituição do petróleo por outras fontes de energia.
- III. O aumento do preço do petróleo no ano de 2000 não interferiu no preço do transporte de cargas, já que o Brasil tem implementado projetos de melhoria e construção de novas ferrovias.
- IV. A crise que se instaurou no ano 2000 é semelhante à ocorrida na década de 70, ou seja, deve-se à ação da OPEP, que trouxe como consequência a diminuição de produção na área do Golfo Pérsico.

**20)** Pela análise das afirmativas, conclui-se que estão corretas as da alternativa

- A) I e II
- B) I, II e III
- C) I e IV
- D) II, III e IV
- E) III e IV

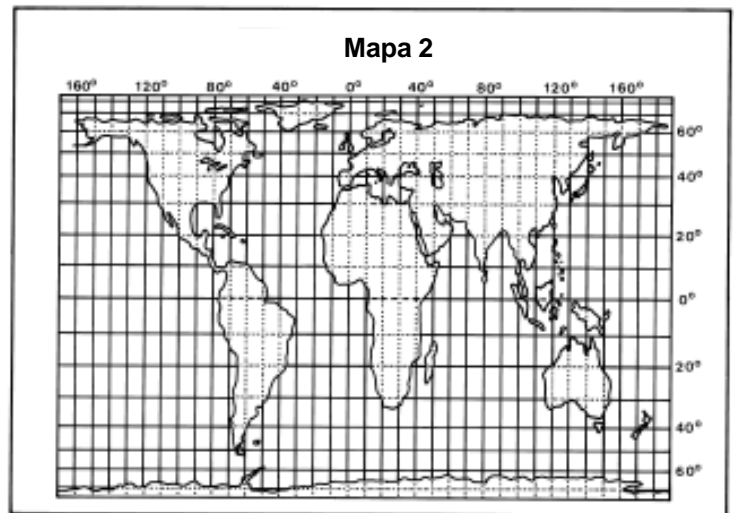
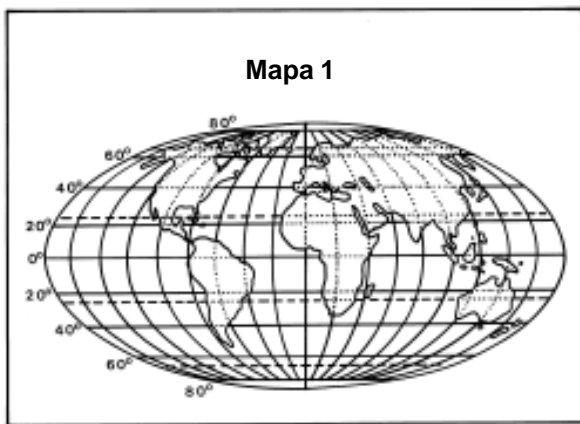
**INSTRUÇÃO:** Responder à questão 21 com base na charge abaixo, referente à organização do mundo hoje.



21) A charge acima

- A) representa uma divisão esquemática do mundo, representada pela linha do Equador, definida pela pobreza do Sul e riqueza do Norte.
- B) caracteriza uma realidade vivenciada no capitalismo industrial, onde a poluição foi o fator dominante devido à falta de tecnologia preventiva.
- C) mostra um conflito ideológico, e não econômico, já que representa a bipolarização da Guerra Fria e a preocupação com a ecologia.
- D) indica que, embora o Sul fique separado do Norte por uma linha imaginária, há uma nítida ruptura causada pelas diferenças em administrar problemas ambientais.
- E) evidencia um antagonismo entre ricos e pobres, num conflito onde a população pobre dos países do Sul é dominada pelo poder ideológico e econômico do Norte.

**INSTRUÇÃO:** Responder à questão 22 com base nos mapas abaixo.



22) Sobre os mapas acima, é correto afirmar que

- A) os dois são de mesma escala e representam o mesmo espaço real, pertencendo à categoria conforme.
- B) o mapa 1 é equivalente e cônico, o mapa 2 é cilíndrico equidistante, porém a escala do 1 é maior do que a do 2.
- C) os dois são de Mercator, pois caracterizam o Eurocentrismo, que põe em destaque a Europa.
- D) a escala do mapa 1 é maior do que a do mapa 2, pois o detalhamento é menor.
- E) o mapa 1 é afilático, projeção conhecida de Mollweide, e o mapa 2 é de Peters, cilíndrico equivalente.

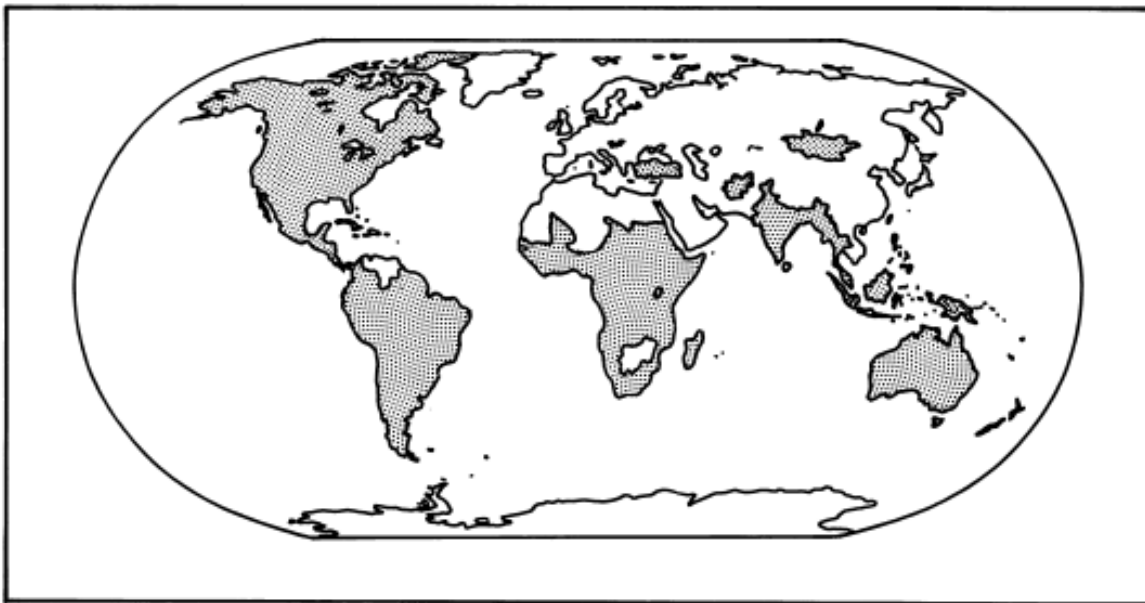
23) A Lua, satélite natural da Terra, é o elemento cósmico mais próximo que influencia diretamente o cotidiano das pessoas. É correto afirmar, sobre essa influência, que

- A) os picos de marés altas ocorrem pela força gravitacional provocada pela Lua nas quadraturas.
- B) os eclipses, fenômenos que auxiliam o estudo da Lua e do Sol, ocorrem nas fases crescente e minguante.
- C) a Lua, na sua fase crescente, aparece no céu do Hemisfério Sul em forma de "C", devido à sombra que a Terra nela provoca, o que diminui o seu poder gravitacional sobre esta.
- D) o movimento de translação da Lua proporciona as diferentes fases, as quais, pela posição em relação ao Sol e à Terra, modificam o poder gravitacional do nosso planeta.
- E) o eclipse anelar, ou anular, ocorre na fase da Lua cheia, quando um "anel dourado" reflete os limites do Sol.

24) Um viajante saiu da Austrália para o Brasil atravessando a LID (Linha Internacional da Data – 180°). No meridiano 175° Leste, o seu relógio estava marcando 13 horas do dia 21 de setembro. Quando chegar a um lugar a 178° Oeste, legalmente, que horas e dia serão para esse viajante?

- A) 13 horas do dia 20 de setembro.
- B) 13 horas do dia 21 de setembro.
- C) 11 horas do dia 20 de setembro.
- D) 12 horas do dia 21 de setembro.
- E) 12 horas do dia 20 de setembro.

**INSTRUÇÃO:** Responder à questão 25 com base no mapa abaixo.



25) As áreas hachuradas no mapa representam países

- A) importadores de tecnologia, sendo que os mais pobres a utilizam para atrair transnacionais.
- B) exportadores de alimentos como matérias-primas agrícolas, apesar de muitos apresentarem graves problemas de subalimentação crônica.
- C) produtores de carvão e cobre, utilizados nas grandes metalúrgicas e siderúrgicas dos países centrais.
- D) adeptos da Revolução Verde, iniciada no Sudeste Asiático, tendo como objetivo amenizar problemas ambientais.
- E) que ainda praticam o sistema agrícola de Plantations.

**INSTRUÇÃO:** Responder à questão 26 com base no mapa e afirmativas abaixo.



- I. A área em destaque representa a fronteira do Brasil com a República do Suriname a Norte e com a República da Colômbia a Noroeste; fronteira viva pela presença da Floresta Amazônica.
- II. A fronteira demarcada representa um grande problema geopolítico para o Brasil, pois o narcotráfico na região é muito intenso.
- III. O Exército Brasileiro tem intensificado o controle dessa área, devido à ameaça constante, por parte de grupos organizados dos países sul-americanos, que praticam a extração ilegal nos seringais e a biopirataria.
- IV. Hoje é a fronteira que mais preocupa as forças armadas brasileiras, pois é uma área estratégica de radiação da distribuição de drogas, principalmente onde se encontra a fronteira com a República da Colômbia.

**26)** Pela análise das afirmativas, conclui-se que estão corretas as da alternativa

- A) I e II
- B) I, II e III
- C) I, III e IV
- D) II e IV
- E) III e IV

**INSTRUÇÃO:** Responder à questão 27 com base nas afirmativas abaixo, referentes à hidroelétrica de Itaipu.

- I. Localiza-se no Rio Paraná, próximo à foz do Rio Iguaçu, representando a maior produção de energia hidroelétrica do país.
- II. É uma hidroelétrica binacional, cujo tratado prevê que a energia não consumida por um dos sócios só pode ser vendida ao outro.
- III. A energia produzida é fundamental ao desenvolvimento industrial da Argentina, geopoliticamente favorecida pela construção do lago artificial.
- IV. O Uruguai, sendo um país não muito populoso e pouco industrializado, consome apenas uma pequena parte da energia provinda de Itaipu, exportando o restante para o Brasil.

**27)** Pela análise das afirmativas, conclui-se que estão corretas as da alternativa

- A) I e II
- B) I, II e III
- C) I, III e IV
- D) II e IV
- E) III e IV

**28)** Um morador, observando o amanhecer em uma latitude antípoda da cidade de São Paulo, no dia 21 de junho, perceberá que o Sol estará nascendo no \_\_\_\_\_, o que caracteriza uma situação de \_\_\_\_\_.

- A) Oeste – equinócio
- B) Sudeste – equinócio
- C) Leste – solstício
- D) Sul – solstício
- E) Sudoeste – equinócio

**INSTRUÇÃO: Responder à questão 29 com base nas afirmativas abaixo, sobre o Estado do Rio Grande do Sul.**

- I. É o quinto Estado mais populoso do Brasil, tendo uma população superior aos dois outros Estados formadores da Região Sul.
- II. Não pode ser considerado um Estado urbanizado, pois menos de 80% de sua população mora em áreas urbanas.
- III. O típico vento minuano “entra” pelo sudoeste do Estado e provoca tempo bom; já o “carpinteiro da costa”, proveniente do Atlântico, “entra” pelo sudeste e provoca chuvas.
- IV. Entre os principais cultivos agrícolas, encontram-se o arroz, o milho, o fumo, a videira, o trigo e a soja, sendo os dois últimos exemplos de lavouras mecanizadas.

**29)** Pela análise das afirmativas, conclui-se que estão corretas as da alternativa

- A) I, II e III
- B) I, II e IV
- C) I, III e IV
- D) II, III e IV
- E) II e IV

**INSTRUÇÃO: Responder à questão 30 com base no quadro comparativo das paisagens do mundo.**

	Vegetação	Clima	Localização	Ação Antrópica
I	Tundra	Polar	Próximo ao Círculo Polar Ártico	Desmatamento e exploração vegetal
II	Taiga	Frio	Ao Sul da Tundra	Exploração vegetal de madeira nobre
III	Savana	Tropical	No centro do continente africano	Queimadas não-cíclicas
IV	Vegetação Monçônica	Tropical	Sul da Europa e Norte da África	Abertura de clareiras para a produção de arroz
V	Florestas Equatoriais	Equatorial	Baixas latitudes	Desmatamento para a agropecuária e extrativismo vegetal

**30)** Pela análise do quadro, conclui-se que a relação correta entre os dados está na alternativa

- A) I e II
- B) I e III
- C) I, II e IV
- D) II, III e V
- E) IV e V