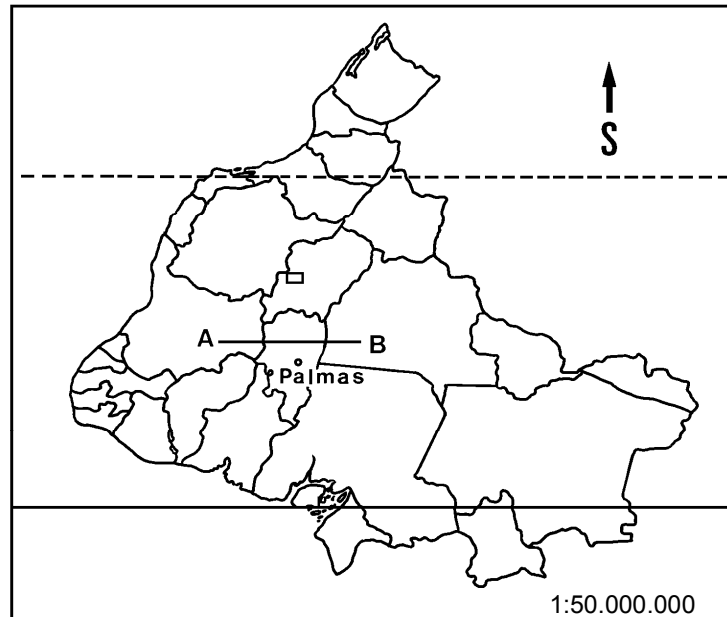


# GEOGRAFIA

**INSTRUÇÃO:** Responder à questão 16 com base no mapa abaixo, sabendo que a distância entre A e B é de 2cm, e nas afirmativas.



- I. O Equador está ao Norte do Trópico de Capricórnio.
- II. A distância real entre os pontos A e B é de 1000 Km.
- III. Palmas está ao Sul do Distrito Federal.
- IV. Caso a escala do mapa fosse 1:100.000.000, todos os Estados nele representados teriam áreas gráficas menores.
- V. A orientação do mapa está invertida.

**16)** Pela observação do mapa e análise das afirmativas, conclui-se que está correta a alternativa

- A) I, II e III
- B) I, II e IV
- C) I, II, III, IV e V
- D) II, III e IV
- E) III, IV e V

**INSTRUÇÃO: Responder à questão 17 com base no quadro abaixo, sobre o Rio Grande do Sul.**

ÁREA	EXPLORAÇÃO ECONÔMICA	GEOMORFOLOGIA
I. Eixo de ligação entre Porto Alegre e Caxias do Sul	produção de uvas	Depressão em direção ao Planalto Arenítico-Basáltico
II. Oeste das lagoas e lagoas costeiras	produção de arroz	Cuesta do Haedo
III. Norte da Depressão Periférica	produção de trigo e soja	Planalto Arenítico-Basáltico
IV. Campanha Gaúcha	produção de lã	Planalto Arenítico-Basáltico, Depressão Central e Planalto Cristalino
V. Centro do Estado	extração de carvão e calcário	Depressão em direção ao Planalto Cristalino

17) Pela análise do quadro, as relações corretas são apresentadas na alternativa

- A) I e II
- B) I, II e IV
- C) II, III e V
- D) III e IV
- E) III, IV e V

**INSTRUÇÃO: Responder à questão 18 com base nas afirmativas abaixo, sobre aspectos demográficos do Rio Grande do Sul.**

- I. A população gaúcha nos últimos 50 anos cresceu a uma taxa anual proporcional inferior à do Brasil.
- II. Nas últimas décadas, houve um aumento de municípios com poucos habitantes no Estado, graças às emancipações municipais.
- III. A maior concentração populacional do Estado abrange as áreas litorâneas, pois as atividades econômicas relacionadas ao turismo exercem atração populacional.
- IV. As migrações estão ocorrendo com maior frequência para as cidades menores, em consequência dos trabalhos temporários existentes nas áreas rurais.

18) A análise das afirmativas permite concluir que está correta a alternativa

- A) I e II
- B) I, II e III
- C) I e III
- D) II e III
- E) II, III e IV

19) Qual das características abaixo **NÃO** corresponde à realidade de Porto Alegre no que se refere à situação geográfica e ao sítio urbano?

- A) A cidade está localizada à margem esquerda de um corpo lagunar chamado Guaíba.
- B) Os morros mais altos são graníticos, antigos e arredondados, em consequência dos agentes erosivos.
- C) É a capital administrativa do Estado, localizando-se no setor centro-oriental do Rio Grande do Sul.
- D) A ligação hidroviária da cidade para o exterior dá-se através dos rios Jacuí e Sinos.
- E) A depressão, onde se localiza grande parte do tecido urbano, é relativa aos relevos adjacentes.

**INSTRUÇÃO: Responder à questão 20 com base no texto abaixo, sobre a globalização.**

*“Globalização converteu-se em palavra da moda e é utilizada em todo tipo de contexto. Nos discursos internacionais, no último decênio, é empregada amiúde, de forma adjetiva e no sentido de interdependência de economia e países.”*

Enciclopédia do mundo contemporâneo, pág. 63

20) A afirmativa que se relaciona corretamente à globalização no mundo contemporâneo é:

- A) Compreende o processo de transnacionalização, expansão das corporações transnacionais na economia mundial.
- B) Concentra cada vez mais a necessidade de produção agrícola nas nações populosas do Hemisfério Sul, restringindo a industrialização.
- C) Manifesta um aumento no mercado consumidor de bens e tecnologia, proporcionando um crescimento econômico global e mais igualitário.
- D) Estabelece limites rígidos para o capitalismo, inibindo o liberalismo econômico e impulsionando as privatizações.
- E) Expressa um mundo bipolarizado, onde o capitalismo conquista espaços geográficos antes dominados pelo socialismo.

**INSTRUÇÃO: Responder à questão 21 com base nas afirmativas abaixo, sobre o Timor Leste.**

- I. Localiza-se na Oceania, a Norte-Noroeste da Austrália.
- II. É um território de origem vulcânica, o que favorece a sua principal fonte de renda, que é o turismo.
- III. Foi ocupado pela Indonésia, com o apoio da Austrália, desde a sua independência de Portugal.
- IV. No ano de 1999 foi palco de um sangrento foco de conflito entre timorenses pró-independência e o exército indonésio.
- V. Em consulta popular, a população timorense optou por continuar politicamente ligada à Indonésia.

**21) Pela análise das afirmativas, conclui-se que está correta a alternativa**

- A) I, II e III
- B) I, III e IV
- C) I, III e V
- D) II, III e IV
- E) III, IV e V

**INSTRUÇÃO: Responder à questão 22 com base na área do continente americano hachurada no mapa, e nas afirmativas abaixo.**



- I. Localiza-se no Oeste do continente americano e a Leste da Ásia e Oceania.
- II. É uma área propícia a terremotos e ao vulcanismo, pois situa-se no limite convergente de placas tectônicas.
- III. Apresenta um relevo acidentado, montanhoso e geologicamente jovem.
- IV. Representa barreira para os ventos úmidos vindos do oceano, sendo que o lado voltado para o oeste chama-se sotavento e origina desertos no interior.

**22) Pela análise das afirmativas, conclui-se que está correta a alternativa**

- A) I e II
- B) I, II e III
- C) I, III e IV
- D) II, III e IV
- E) II e IV

**INSTRUÇÃO: Responder à questão 23 com base no texto abaixo.**

“Quando parei no sinal (sinaleira)  
Eu vi um menino surgindo do nada  
Vendendo paçoca, chiclete e cocada  
E água da bica jurando ser mineral.  
Quando eu parei no sinal  
Pintou até “ceva”, remédio e cigarro  
Amortecedor e adesivo para carro  
Lençol de solteiro e colchão de casal.”

Arlindo Cruz Franco

**23) O texto refere-se a uma situação**

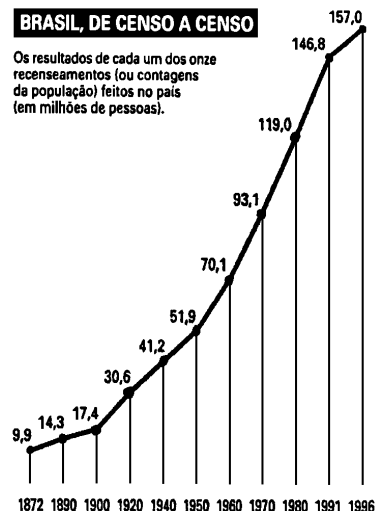
- A) encontrada em países capitalistas agrários e países que ainda conservam estruturas socialistas, onde a maior parte da população economicamente ativa se encontra no setor secundário da economia.
- B) presente em países com o setor terciário hipertrofiado, nos quais o setor secundário tecnologicamente desenvolvido não consegue absorver grande parte da mão-de-obra.
- C) característica de um país que tem um grande êxodo rural, onde uma grande parte da população é absorvida pela indústria tradicional.
- D) decorrente da organização econômica, já que todos os países sofrem com o aumento do mercado informal, influência direta do processo de globalização.
- E) resultante de um processo de desvalorização do comércio formal, permitindo um maior crescimento do comércio de ruas.

**INSTRUÇÃO:** Responder à questão 24 com base na tabela e afirmativas abaixo.

PERCENTUAL DE TRABALHADORES ENVOLVIDOS NAS ATIVIDADES ECONÔMICAS(%)			
Países	Agricultura	Indústria	Serviços
A	74,5	8,1	14,7
B	23,3	23,0	58,3
C	7,8	26,8	65,5
D	11,4	45,4	43,4

- I. Os países A e B representam, respectivamente, uma nação desenvolvida e uma não desenvolvida – a principal característica do desenvolvimento é manter os trabalhadores no campo com alta produtividade.
- II. O país D apresenta características de uma nação socialista: a indústria pouco motivada absorve grande parte da mão-de-obra, e o número significativo de trabalhadores nos serviços demonstra a burocracia governamental.
- III. O país C, ao contrário do A, tem pouca concentração da população na agricultura – a base da economia pode estar centrada no setor secundário, como em muitos países desenvolvidos.
- IV. O país que mais se assemelha ao Brasil é o B: um grande número de trabalhadores nos serviços e, apesar de ser um país industrializado, o seu setor secundário não absorve a mão-de-obra disponível.
- 24)** Pela análise das afirmativas, conclui-se que está correta a alternativa
- A) I, II e III
- B) I e IV
- C) II e III
- D) II, III e IV
- E) II e IV

**INSTRUÇÃO:** Responder à questão 25 com base no gráfico abaixo.



- 25)** Pela interpretação do gráfico, conclui-se que
- A) no período entre 1872 a 1900, o planejamento familiar possibilitou ao país um pequeno crescimento demográfico.
- B) o aumento populacional, a partir de 1950, é consequência da diminuição da mortalidade, em função dos avanços médico-sanitários.
- C) o desaceleramento do aumento da população na década de 90 do século XX mostra que o país conseguiu entrar na segunda fase de crescimento mundial da população, atingida pelos países não desenvolvidos industrializados.
- D) até 1950, o Brasil permaneceu em equilíbrio populacional, pois não tinha recebido contingentes imigratórios.
- E) o Brasil é um país populoso, consequentemente povoado.
- 26)** Dois viajantes deslocam-se do Meridiano 5 graus oeste para o Meridiano 10 graus leste. O primeiro sobre a linha do Equador e o segundo sobre o Círculo Polar Ártico. A afirmativa correta sobre essa viagem é:
- A) Ambos percorrem o mesmo número de graus e quilômetros, aumentando uma hora legal no percurso.
- B) Ambos percorrem o mesmo número de graus, aumentando uma hora legal no percurso, porém o primeiro terá que andar mais em quilômetros que o segundo.
- C) O primeiro percorrerá maior número de graus e quilômetros que o segundo, e ambos terão diminuído uma hora legal em seus percursos.
- D) Ambos percorrem o mesmo número de graus e quilômetros, diminuindo uma hora legal no percurso.
- E) Ambos percorrem o mesmo número de graus e quilômetros, permanecendo na mesma hora legal.

**INSTRUÇÃO: Responder à questão 27 com base no texto abaixo.**

*“Com a chegada dos portugueses há 500 anos, iniciou-se o processo de devastação das matas brasileiras. Muitos espaços de vegetação nativa foram, já no primeiro século de ocupação, substituídos por canaviais.”*

27) A denominação correta da vegetação, do clima e da forma de relevo que correspondem à paisagem descrita no texto é

- A) Mata Atlântica, Tropical Típico, Planalto Cristalino.
- B) Manguezais, Equatorial, Planície Costeira.
- C) Mata Atlântica, Tropical Úmido, Mares de Morros.
- D) Manguezais, Tropical de Altitude, Encosta do Planalto.
- E) Mata de Araucárias, Subtropical, Planalto Meridional.

28) Os *brasiguaios* são o resultado da expulsão de milhares de agricultores do sul do Brasil, iniciada na década de 50. O seu retorno às terras brasileiras constitui mais um problema social. O país que abrigou esses indivíduos e o principal Estado repulsor são, respectivamente,

- A) Uruguai e Paraná.
- B) Paraguai e Rio Grande do Sul.
- C) Bolívia e Santa Catarina.
- D) Uruguai e Rio Grande do Sul.
- E) Paraguai e Paraná.

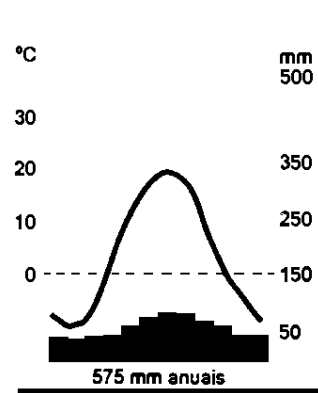
**INSTRUÇÃO: Responder à questão 29 com base nas afirmativas abaixo, referentes aos transportes no Brasil.**

- I. Na década de 90, no MERCOSUL, começam a ser postos em prática projetos de navegação nas bacias dos rios Tietê e Paraná.
- II. O transporte ferroviário teve um grande desenvolvimento com o auge da cafeicultura, pois as ferrovias ligaram as áreas produtoras aos portos exportadores.
- III. O principal meio de transporte no Brasil é o rodoviário, apesar de o país depender da tecnologia de transnacionais para a produção de automóveis e caminhões.
- IV. A qualidade do transporte hidroviário praticado nos rios Amazonas e São Francisco tem dispensado gastos destinados à construção de estradas de rodagem próximas a esses rios.

29) Pela análise das afirmativas, conclui-se que está correta a alternativa

- A) I, II e III
- B) I, III e IV
- C) II e III
- D) II, III e IV
- E) III e IV

**INSTRUÇÃO: Responder à questão 30 com base no climatograma e afirmativas abaixo.**



- I. Trata-se do clima de uma cidade localizada no Hemisfério Sul.
- II. Apresenta uma baixa amplitude térmica anual.
- III. No verão ocorre a maior concentração de chuvas.
- IV. Os meses mais quentes são os que apresentam menores concentrações pluviométricas.
- V. É o climatograma típico de Clima Temperado.

30) Pela análise do climatograma e das afirmativas, conclui-se que está correta a alternativa

- A) I, II e III
- B) I, III e IV
- C) II, IV e V
- D) II e V
- E) III e V